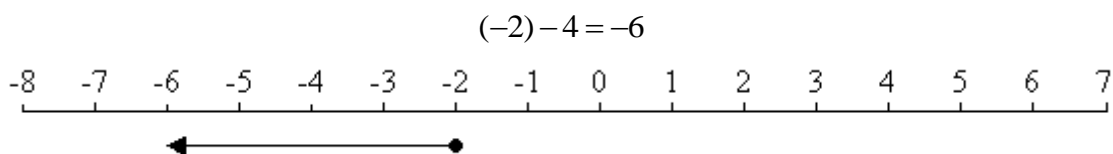
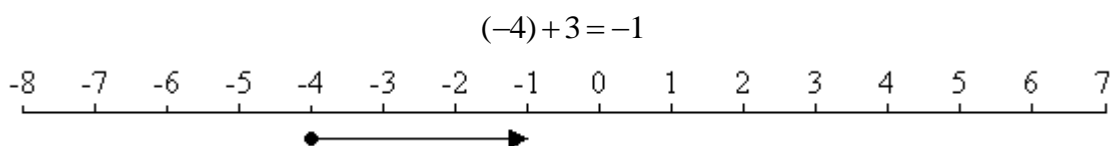
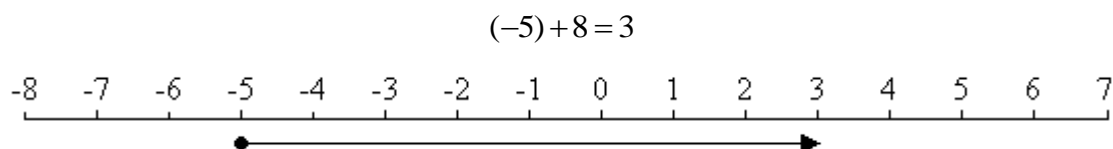
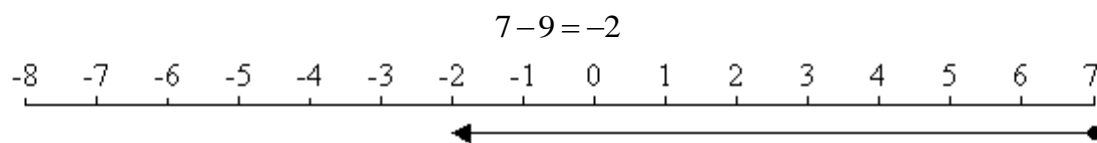


Suma i resta de nombres enters.

Fixa't en els exemples:



Fes el mateix amb els següents exercicis:

a) $6 - 8 =$



b) $5 - 7 =$



c) $2 - 4 =$



d) $(-3) + 2 =$



e) $(-6) + 9 =$



f) $(-7) + 2 =$



g) $(-5) + 3 =$



h) $(-9) + 1 =$



i) $(-3) + 5 =$



j) $(-6) + 5 =$



k) $(-4) + 4 =$



l) $(-5) + 4 =$



m) $(-3) - 2 =$



n) $(-5) - 4 =$



o) $(-1) - 3 =$

