




MIRA LA IMATGE I ESCRIU LA  
RESPOSTA CORRECTA:



QUANTS NENS HI HA?



QUANTES NENES HI HA?



QUANTS GLOBUS HI HA?



QUIN ÉS EL GLOBUS MÉS GRAN?



QUIN ÉS EL GLOBUS MÉS PETIT?



DIBUIXA ELS NENS, NENES I GLOBUS QUE S'INDIQUEN:



3 NENES



4 NENS

--	--	--	--	--



2



1



1



2



1