

# GEOGRAFIA ESO



8

# CATALUNYA

NOM \_\_\_\_\_

DATA \_\_\_\_\_

IES \_\_\_\_\_

## CATALUNYA

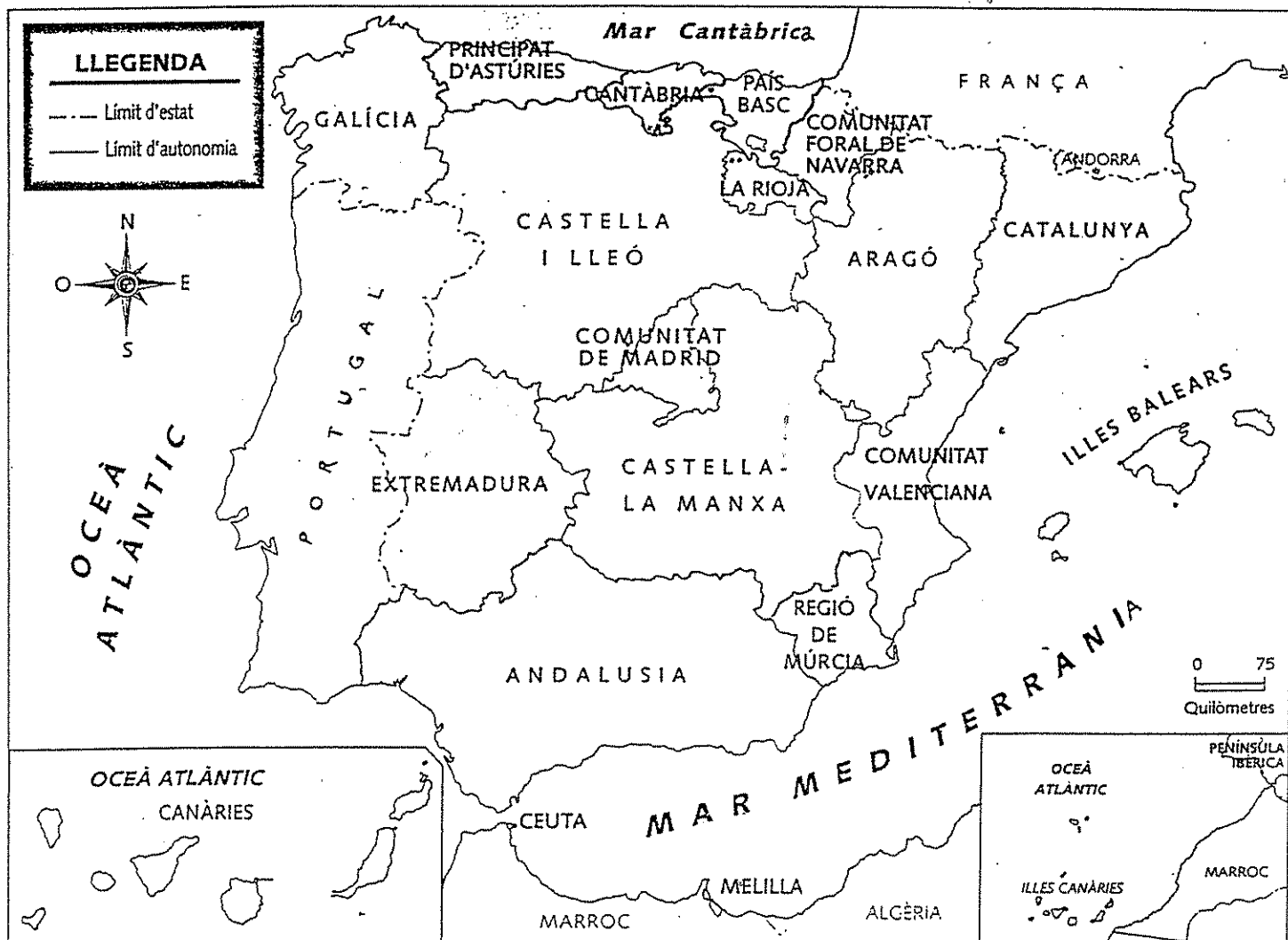
Catalunya és una de les disset comunitats autònomes de l'Estat espanyol. Té forma de triangle.

La superfície actual de Catalunya és de 31.895 Km<sup>2</sup>.

Limita al nord amb França i Andorra, a l'est amb la mar Mediterrània, a l'oest amb Aragó i al sud amb la Comunitat Valenciana.

### ACTIVITATS

1. Observa el mapa d'Espanya i pinta Catalunya.
2. Pinta la mar Mediterrània.



Catalunya es divideix en 41 comarques. S'agrupen en 4 províncies: Barcelona, Tarragona, Lleida i Girona.

- ✓ Aquí tens la llista de les províncies de Catalunya amb les seves comarques i les seves capitals:

PROVÍNCIES	COMARQUES	CAPITALS
GIRONA	Alt Empordà	Figueres
	Baix Empordà	La Bisbal d'Empordà
	Gironès	Girona
	La Selva	Santa Coloma de Farners
	Cerdanya	Puigcerdà
	Ripollès	Ripoll
	Garrotxa	Olot
	Pla de l'Estany	Banyoles
BARCELONA	Maresme	Mataró
	Barcelonès	Barcelona
	Baix Llobregat	Sant Feliu de Llobregat
	Garraf	Vilanova i la Geltrú
	Alt Penedès	Vilafranca del Penedès
	Anoia	Igualada
	Solsonès	Solsona
	Berguedà	Berga
	Osona	Vic
	Vallès Oriental	Granollers
	Vallès Occidental	Sabadell
	Bages	Manresa
	TARRAGONA	Baix Penedès
Tarragonès		Tarragona
Baix Camp		Reus
Baix Ebre		Tortosa
Montsià		Ampostà
Terra Alta		Gandesa
Ribera d'Ebre		Móra d'Ebre
Priorat		Falset
Conca de Barberà		Montblanc
Alt Camp		Valls
LLEIDA		Andorra
	Alt Urgell	La Seu d'Urgell
	Segarra	Cervera
	Urgell	Tàrraga
	Les Garrigues	Les Borges Blanques
	Segrià	Lleida
	Pla d'Urgell	Mollerussa
	La Noguera	Balaguer
	Pallars Jussà	Tremp
	Alta Ribagorça	El Pont de Suert
	Vall d'Aran	Vielha
	Pallars Sobirà	Sort

- ✓ Observa el mapa de les comarques i capitals catalanes.
- ✓ Pinta les comarques de la província de Girona.



**ACTIVITATS**

3. Indica quina és la capital de les comarques catalanes:

COMARQUES DE CATALUNYA	CAPITALS DE COMARCA
Alt Empordà	
Baix empordà	
Gironès	
La Selva	
Maresme	
Barcelonès	
Baix Llobregat	
Garraf	
Baix Penedès	
Tarragonès	
Baix Camp	
Baix Ebre	
Montsià	
Terra Alta	
Segrià	
La Noguera	
Pallars Jussà	
Alta Ribagorça	
Val d'Aran	
Pallars Sobirà	
Andorra	
Cerdanya	
Ripollès	
Garrotxa	
Pla de d'Estany	
Vallès Oriental	
Vallès Occidental	
Alt Penedès	
Alt Camp	
Priorat	
Ribera d'Ebre	
Les Garrigues	
Urgell	
Pla d'Urgell	
Segarra	
Alt Urgell	
Berguedà	
Osona	
Bages	
Anoia	
Solsonès	

- ✓ Omple el mapa amb el nom de les comarques catalanes.
- ✓ Pinta les comarques següents:

Barcelonès

Osona

Tarragonès

Maresme

Bages

Baix Ebre

Vallès Occidental

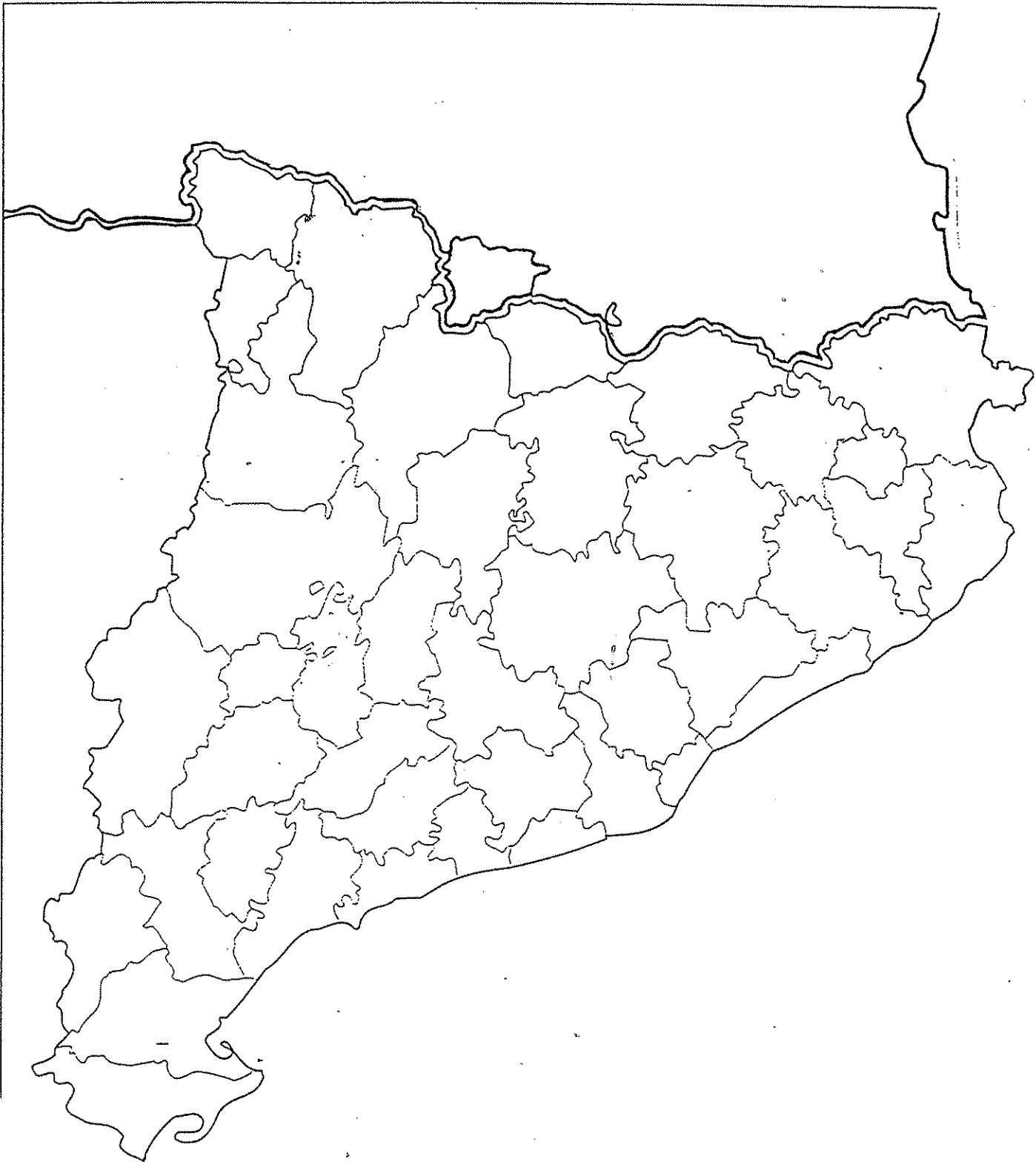
Alt Penedès

Montsià

Segrià

Val d'Aran

Alt Urgell



ACTIVITATS

4. Classifica:

Alt Empordà	Barcelonès	Osona	Tarragona
Maresme	Ripoll	Puigcerdà	La Selva
Sort	Garrotxa	Pla de l'Estany	Manresa
Figueres	Granollers	Gironès	Tarragonès
La Bisbal d'Empordà	Vic	Val d'Aran	Sabadell

COMARQUES

CAPITALS

.....	.....
.....	.....
.....	.....
.....	.....
.....	.....
.....	.....
.....	.....
.....	.....
.....	.....
.....	.....

5. Busca a la següent sopa de lletres el nom de 12 comarques catalanes:

S	R	I	P	O	L	L	E	S	Ñ	A	A
M	A	R	E	S	M	E	R	T	S	S	L
O	P	Y	U	O	J	X	C	F	H	E	T
D	T	U	I	N	W	Z	A	C	U	N	E
A	Y	T	G	A	R	R	A	F	G	O	M
X	S	R	H	G	K	S	E	L	A	L	P
T	A	R	R	A	G	O	N	E	S	E	O
O	Z	M	E	N	O	B	L	O	E	C	R
R	C	E	R	D	A	N	Y	A	G	R	D
R	P	B	A	G	E	S	G	T	R	A	A
A	J	O	G	L	S	E	R	U	I	B	S
G	I	R	O	N	E	S	A	D	A	G	F

6. Ordena les següents lletres i forma el nom de les 8 comarques gironines.

L A T  
D R A O P E M

R R O T G A X A

L A P  
E D  
Y T A S E N L'

P O I R E S L L

L A  
L E V S A

D A C R E N Y A

I B X A  
M E R O P D A

I R O G E S N

7. Escriu la capital de cadascuna de les comarques anteriors.

COMARCA GIRONINA

CAPITAL

.....

.....

.....

.....

.....

.....

.....

.....

.....

.....

.....

.....

.....

.....

.....

.....

.....

.....



## 8. Contesta:

✓ Quines comarques es troben al nord de Catalunya?

✓ Quines comarques es troben al sud?

✓ Quines comarques es troben a l'est?

✓ Quines comarques es troben a l'oest?

✓ Quines comarques es troben al centre?

✓ A quina comarca vius ara?

## 9. Completa el nom de les capitals de les següents comarques:

G \_ R \_ \_ A

F \_ \_ \_ E \_ \_ S

S \_ \_ T

B A \_ \_ \_ L \_ \_ A

M \_ T \_ \_ \_

V \_ C

T \_ R R \_ \_ O \_ A

V \_ \_ L H \_

A \_ P \_ S \_ A

L L \_ \_ \_ A

T O \_ \_ \_ S \_

O \_ \_ T

S \_ \_ \_ \_ L L

M \_ \_ R \_ \_ A

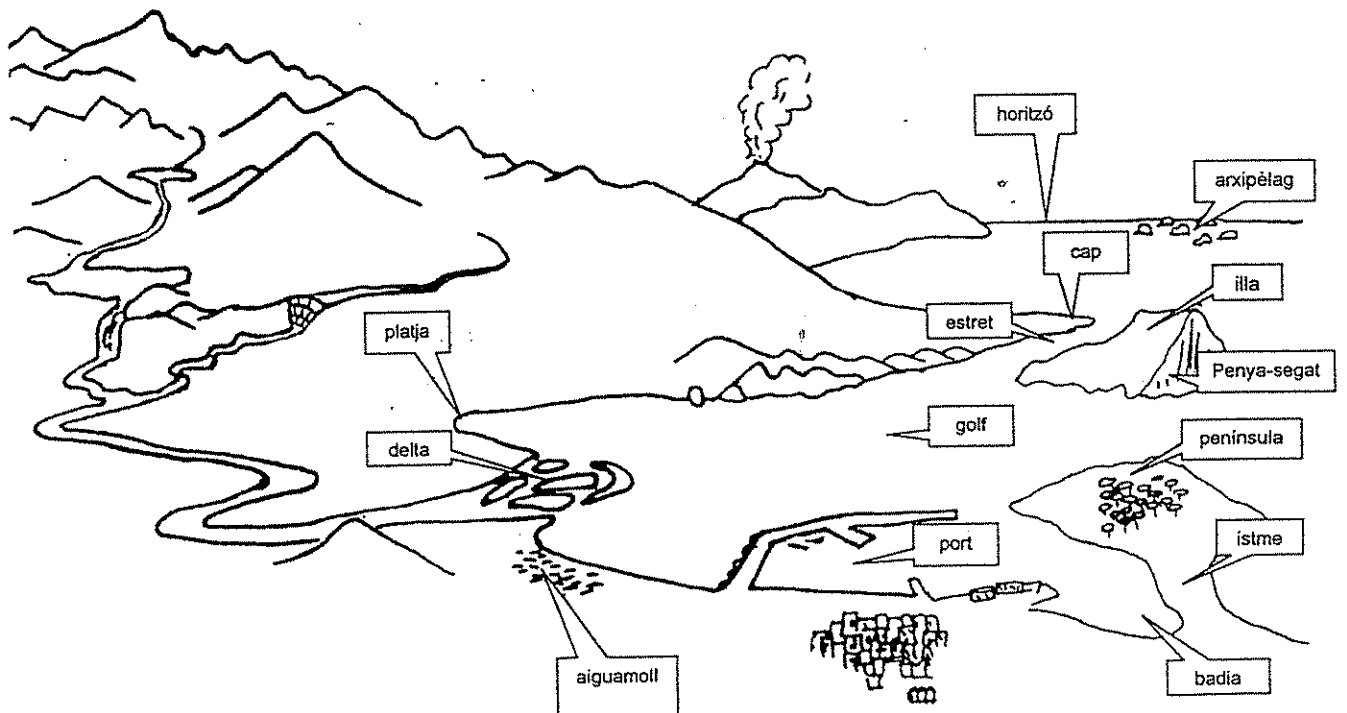
R \_ P \_ L L

B \_ N Y \_ \_ E \_

## CATALUNYA FÍSICA

Catalunya és un país muntanyós. S'hi poden distingir muntanyes altes, una gran depressió i la costa.

- ⇒ Al nord trobem **muntanyes altes** separades per valls extenses.
- ⇒ El centre està ocupat per una gran **depressió**.
- ⇒ La **costa** és molt variada; al nord hi ha grans penya-segats i petites cales, mentre que al centre i al sud hi ha platges.



## EL RELLEU

Per poder aprendre el relleu de Catalunya l'hem dividit en:

- ⇒ Els Pirineus
- ⇒ La Depressió Central
- ⇒ La Serralada Transversal
- ⇒ El Sistema Mediterrani

### ELS PIRINEUS

Són una gran serralada que ocupa tot el nord de Catalunya. Es divideix en:

- el Pirineu Axial: format per muntanyes grans. La més alta és la Pica d'Estats (3143 m).
- el Prepirineu: format per muntanyes de menor altitud. Algunes de les seves serres són la del Cadí i la serra del Albera.

### DEPRESSIÓ CENTRAL

Formada per les planes de Vic, de Lleida...

### LA SERRALADA TRANSVERSAL

La muntanya més alta és el Puigsacalm (1515m).

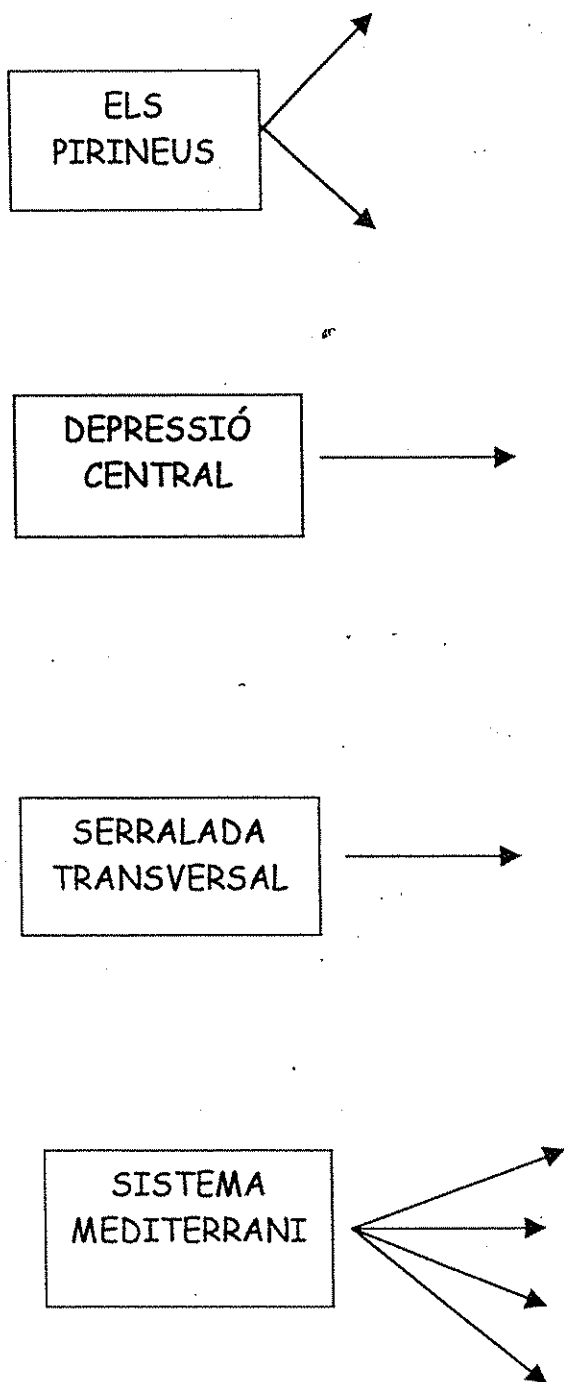
### EL SISTEMA MEDITERRANI

Format per terrenys plans i serres que ocupen quasi tota la costa:

- Serralada Prelitoral: serralada del Montseny (el pic més alt és el Turó de l'home).
- Serralada litoral: la serra de Collserola.
- Depressió prelitoral.
- Planes litorals: la plana de l'Empordà, el delta de l'Ebre...



10. Completa el següent quadre:



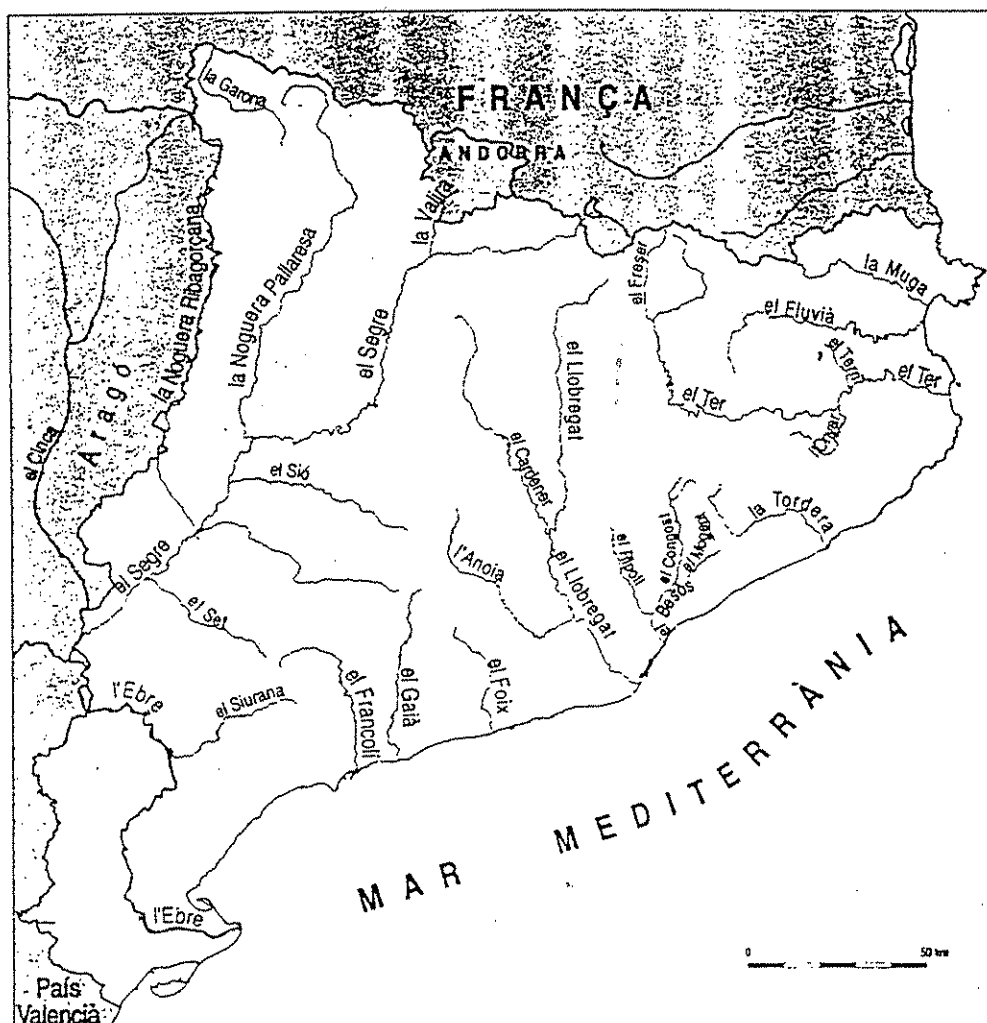
## ELS RIUS

Catalunya és un país amb nombrosos rius petits i no gaire cabalosos.

Els rius més importants de Catalunya que desemboquen a la mar Mediterrània són:

- ⇒ el riu **Ebre** i els seus afluents: el Segre, la Noguera Pallaresa i la Noguera Ribagorçana.
- ⇒ el riu **Ter**, el **Llobregat**, el **Fluvià** i la **Muga**.
- ⇒ altres rius importants són la **Tordera** i el **Besòs**.

- ✓ Observa els principals rius de Catalunya.
- ✓ Localitza i pinta els rius següents: Ebre, Segre, Noguera Pallaresa, Noguera Ribagorçana, Ter, Llobregat, Fluvià, Muga, Tordera i Besòs.



## LA COSTA

La costa és la zona on la terra està en contacte amb el mar.

La costa de Catalunya té una longitud de 550 Km.

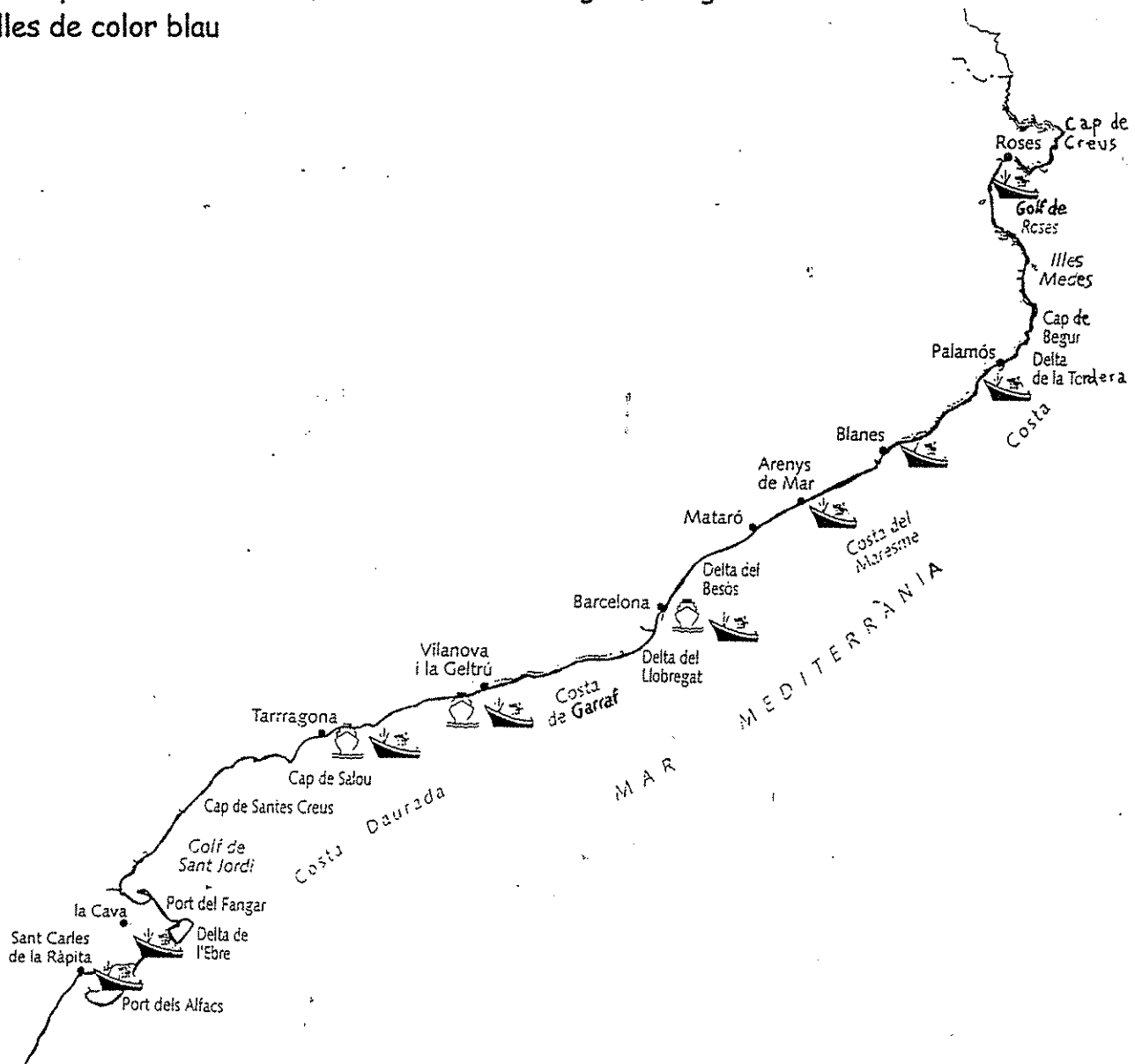
A la costa catalana trobem: **penya-segats, platges, cales, deltes, caps i golfs.**

Alguns dels accidents geogràfics més importants són:

- ⇒ el cap de Creus
- ⇒ el delta de l'Ebre
- ⇒ el golf de Roses i el golf de Lleó
- ⇒ les illes Medes

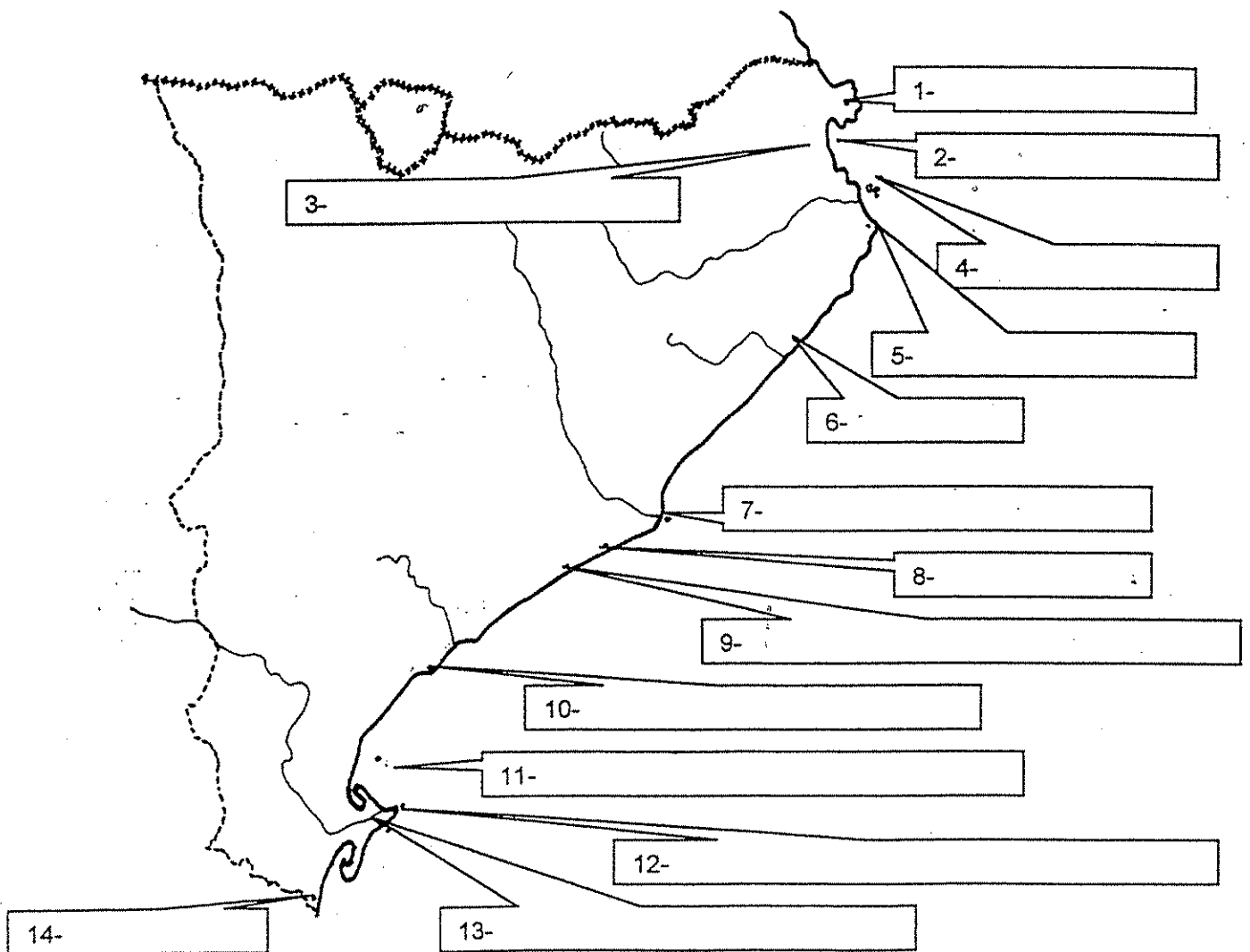
✓ Observa el mapa de la costa catalana i pinta:

- els caps de color vermell, els deltes de color groc, els golfs de color verd i les illes de color blau



✓ Col·loca en aquest mapa de Catalunya els llocs següents tenint en compte la numeració:

- |                                    |                               |
|------------------------------------|-------------------------------|
| 1- Cap de Creus                    | 2- Golf de Roses              |
| 3- Aiguamolls de l'Alt Empordà     | 4- Illes Medes                |
| 5- Cap de Begur                    | 6- Blanes (poble gran)        |
| 7- Delta del Llobregat             | 8- Castelldefels (poble gran) |
| 9- Costa de la Serra del Garraf    | 10- Salou                     |
| 11- Golf de Sant Jordi             | 12- Delta de l'Ebre           |
| 13- Aiguamolls del Delta de l'Ebre | 14- Sènia (riu)               |



✓ Pinta la part interior de la costa tal com t'indiquem:

(El color marró representa la costa alta i el color groc la costa baixa).

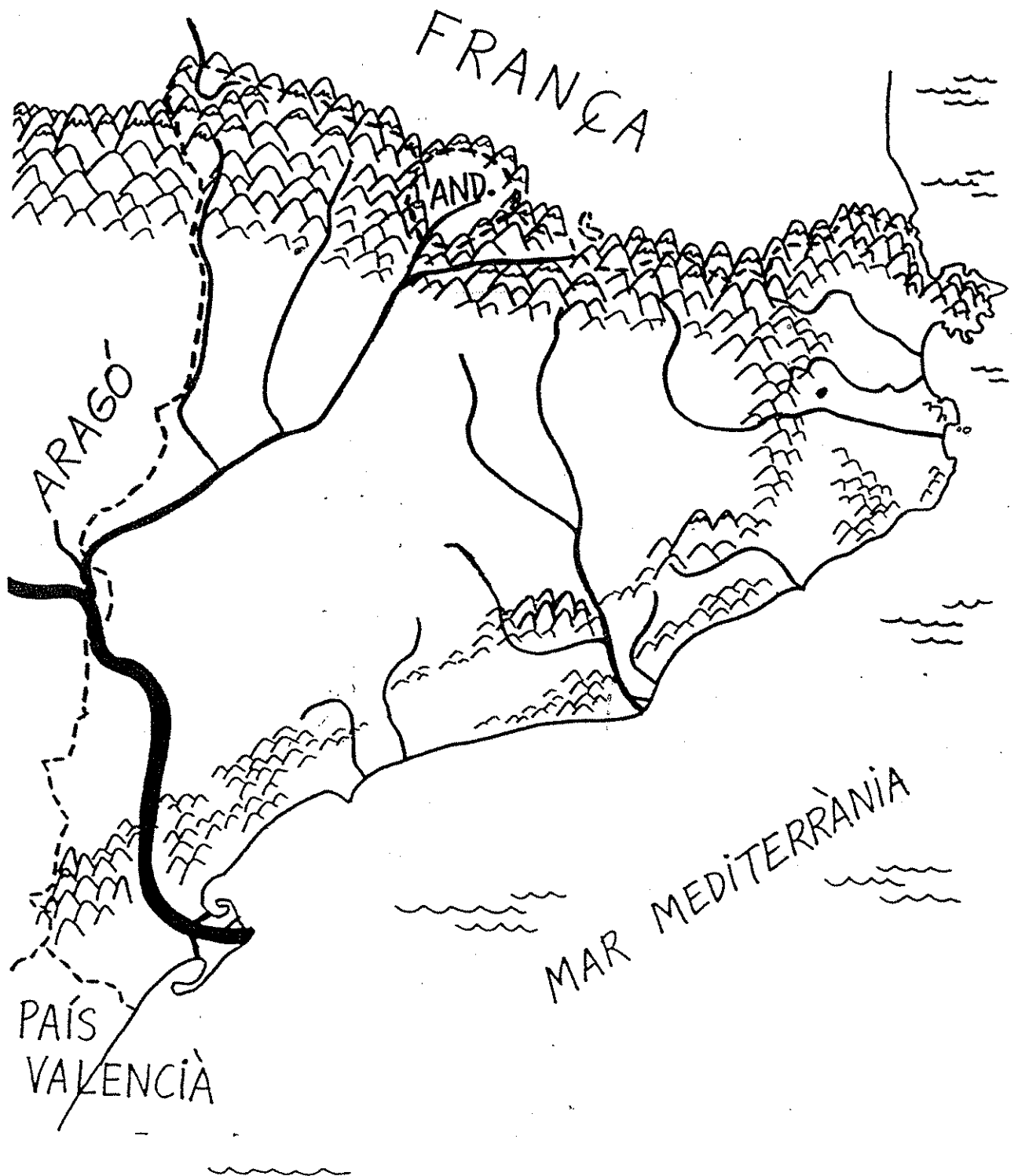
- |                                     |  |
|-------------------------------------|--|
| Cap de Creus.....marró              | Costa de la serra del Garraf.....marró |
| Golf de Roses fiñs a Begur.....groc | Del final del Garraf a Salou.....groc  |
| De Begur a Blanes.....marró         | Cap de Salou.....marró                 |
| De Blanes a Castelldefels.....groc  | Del Cap de Salou al Sènia.....groc     |



11. Situa en aquest mapa les principals unitats de relleu catalanes. Pinta-les de color marró clar.

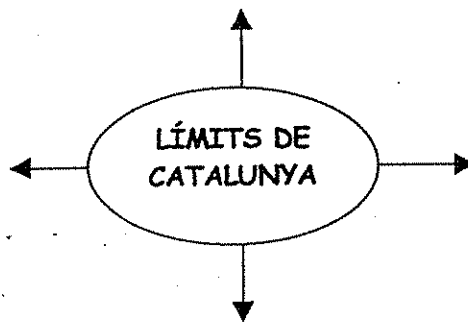
✓ Escriu el nom dels principals rius catalans. Pinta'ls de color blau.

✓ Situa els principals accidents geogràfics de la costa catalana.



## 12. Contesta:

- Quina forma té Catalunya?
- Quantes comarques hi ha a Catalunya?
- Quina és l'extensió del territori català?
- Quines comarques banya la mar Mediterrània?
- Completa el següent esquema:



- Digues el nom dels rius més importants de Catalunya.
- Digues el nom de les serralades catalanes més importants.
- Digues el nom de dues planes.
- Digues el nom de les comarques gironines i les seves capitals.
- Digues el nom d'un cap, d'un golf i d'un delta de Catalunya.