


# GEOGRAFIA ESO



6

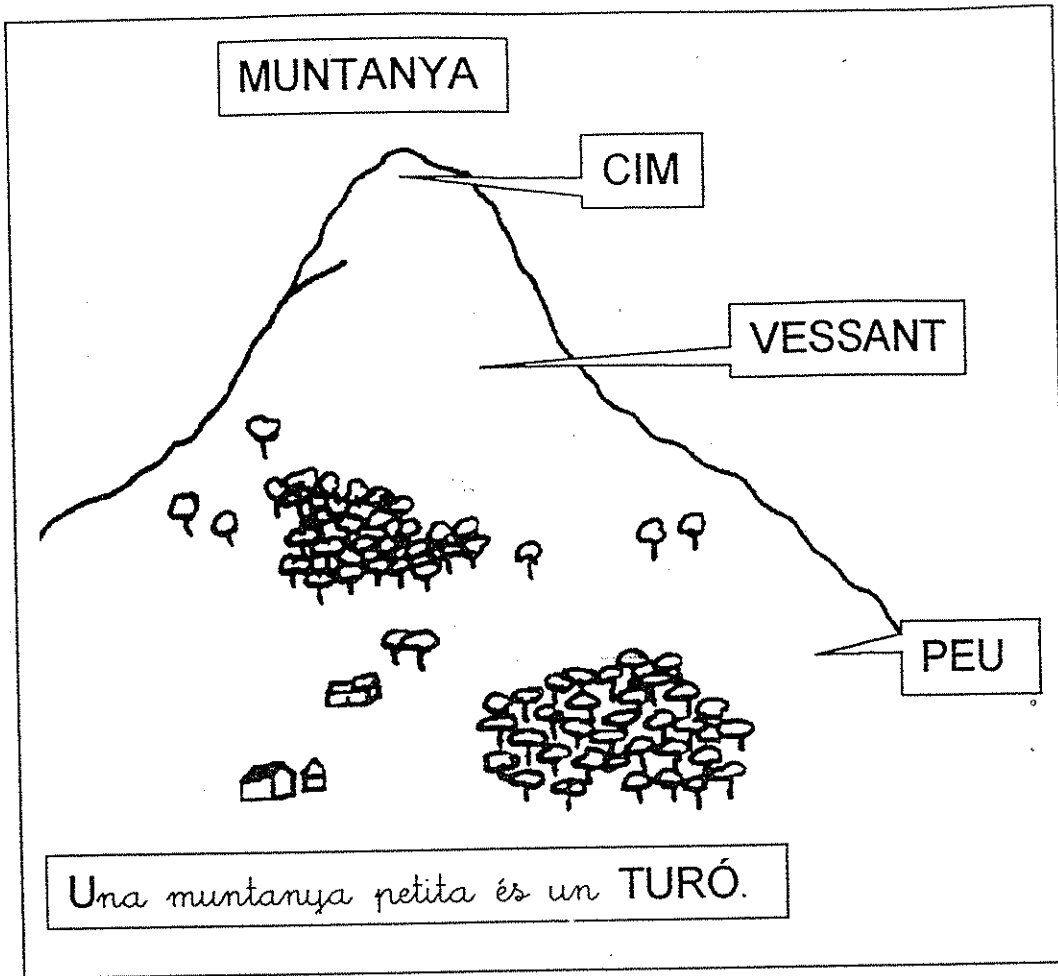
## RIUS I MUNTANYES

**NIVELL INICIAL**

NOM \_\_\_\_\_

DATA \_\_\_\_\_

IES \_\_\_\_\_



1- Ordena les lletres, forma els noms i col·loca'ls al lloc corresponent:

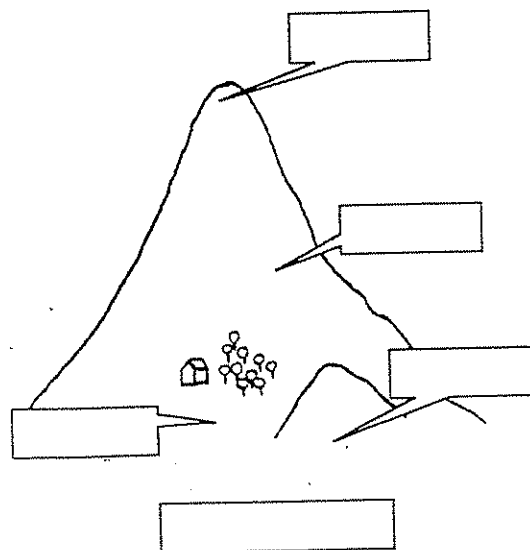
UAMNYATN.....


UEP .....

SAEVSTN .....

UTRÓ .....

MIC .....






Una SERRA és un grup de muntanyes en línia.

### ACTIVITATS


2- Posa els noms:

MUNTANYA, TURÓ, SERRA




- 3-
- Pinta de color verd un turó.
  - Pinta de color groc una serra.
  - Pinta de color marró una muntanya.

Una plana és una gran extensió de terreny.  
 Un altiplà és un terreny pla i elevat.



4- Posa els noms al dibuix:



5- Còpia:

Una plana és un terreny pla.

.....

Un altiplà és un terreny pla i elevat.

.....

Aquest és el mapa de Catalunya.

Hi ha dibuixades 6 muntanyes.

Són així d'altres:

CANIGÓ.....2.785 metres

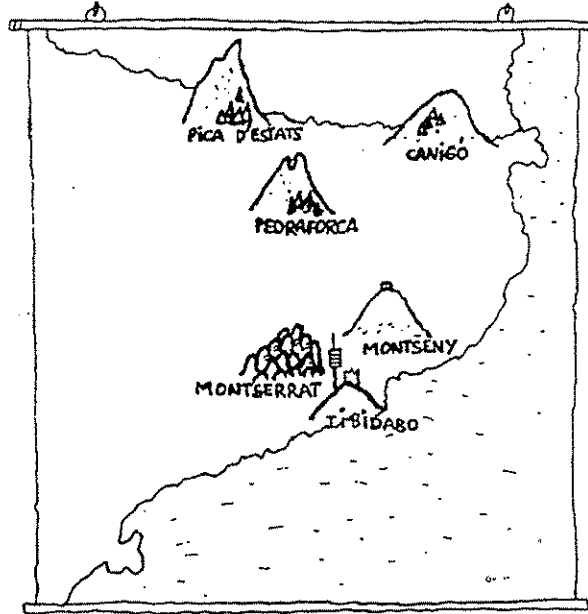
MONTSENY.....1.707 m

MONTSERRAT.....1.224 m

PEDRAFORCA.....2.495 m

PICA D'ESTATS....3.143 m

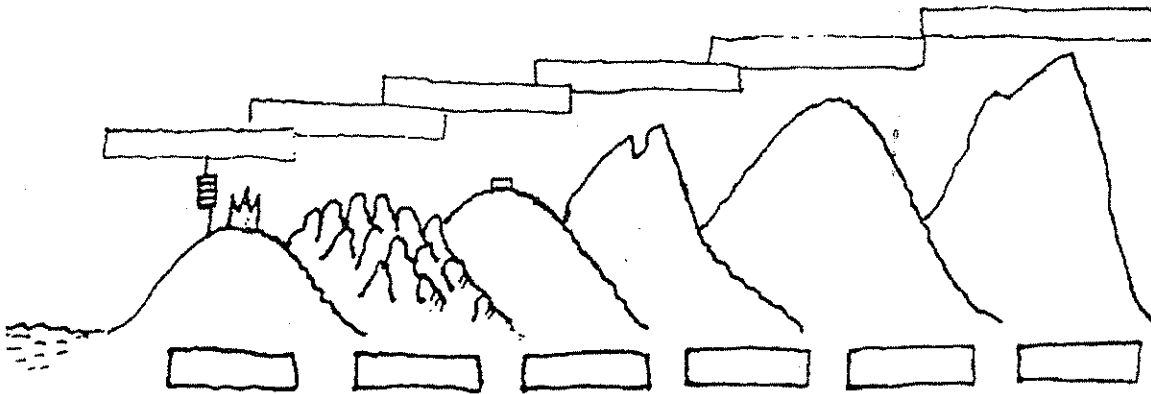
TIBIDABO.....512 m



6- - Aquí tens dibuixades les sis muntanyes.

Al cim de cada muntanya escriu el nom.

Al peu de cada muntanya escriu l'alcada que té.



7- Còpia:

La Pica d'Estats fa tres mil cent quaranta-tres metres d'alcada.

.....

El Montseny té mil set-cents set metres d'alcada.

.....

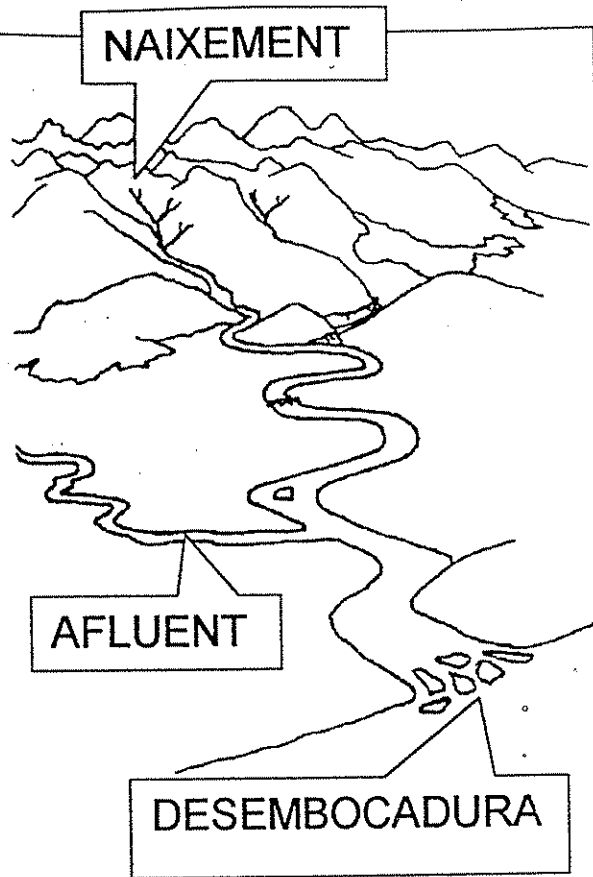
Un riu és un corrent d'aigua que va a parar al mar, a un llac o a un altre riu.

Els rius comencen a les muntanyes.

És el naixement.

El lloc on l'aigua del riu s'ajunta amb el mar s'anomena desembocadura.

Un afluent és un riu que desemboca en un altre riu.



8- Relaciona amb fletxes:

- |                                     |                |
|-------------------------------------|----------------|
| Corrent d'aigua -                   | -desembocadura |
| Lloc on el riu s'ajunta amb el mar- | - affluent     |
| Riu que desemboca en un altre riu - | - riu          |

9- Completa les paraules i torna-les a escriure.

NA\_\_EMEN\_ .....

DESE\_\_OC\_DURA .....

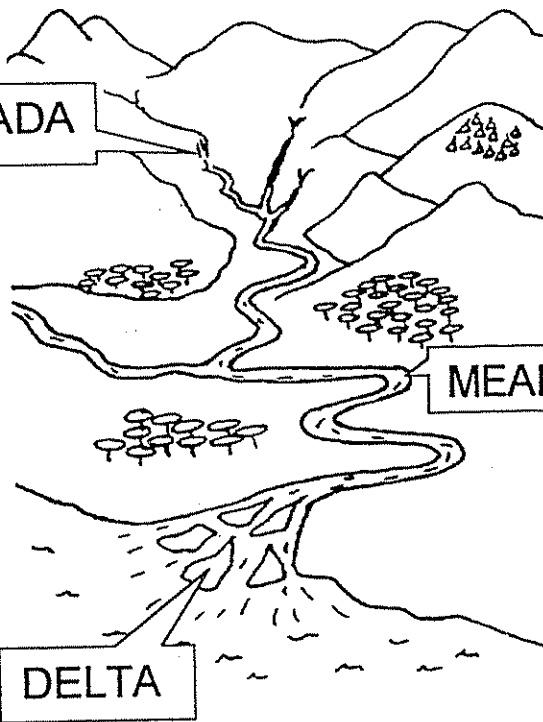
A\_LUE\_T .....

Una cascada és un salt d'aigua del riu des d'un lloc alt.

Un meandre és una corba que fa el riu.

Un delta és un espai de terra que es forma a la desembocadura.

CASCADA



MEANDRE

DELTA

10- Còpia amb lletra lligada:

UNA CASCADA ÉS UN SALT D'AIGUA DEL RIU.

.....

EL DELTA ES FORMA A LA DESEMBOCADURA DEL RIU.

.....

UN MEANDRE ÉS UNA CORBA QUE FA EL RIU.

.....

11- Mira el dibuix d'aquesta pàgina i respon les preguntes:

El naixement del riu està a les muntanyes? .....

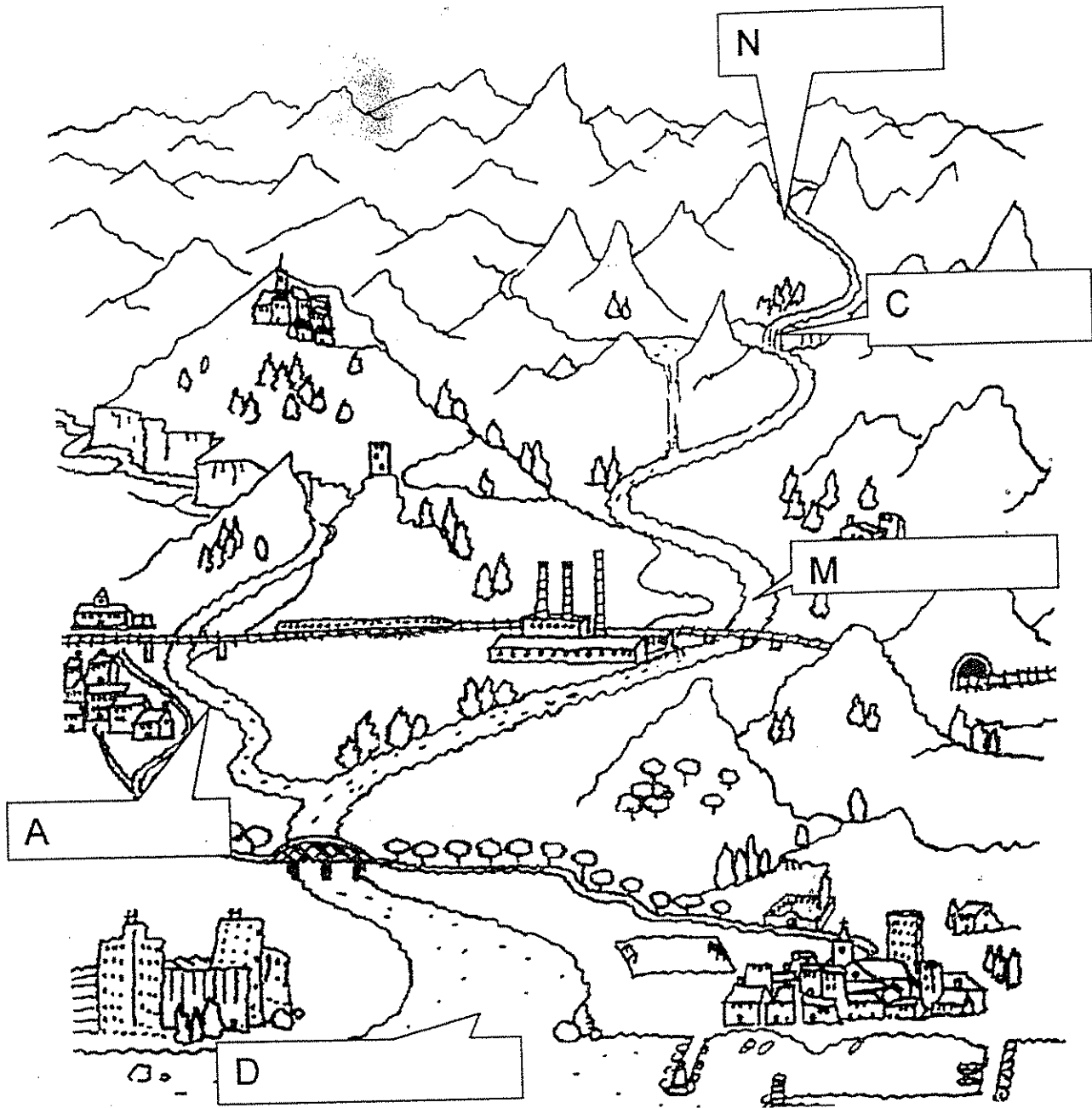
On desemboca aquest riu? .....

Quants meandres té aquest riu? .....

Quants afluents té aquest riu? .....

12- Escriu els noms en el dibuix:

naixement , desembocadura , afluent , cascada , meandre



13- Mira el dibuix i fes frases del que hi veus.

El riu neix a les muntanyes.

.....  
.....  
.....  
.....



14- Busca en aquesta sopa de lletres 15 noms de llocs relacionats amb el riu i la muntanya. Encercla'ls.

MUNTANYA, RIU, ALTIPLÀ, AFLUENT, DELTA, PLANA, CASCADE, VESSANT, CIM, DESEMBOCADURA, SERRA, MEANDRE, NAIXEMENT, TURÓ.

Q	E	G	N	N	D	E	L	T	A	M	J	M
S	J	N	A	I	I	S	E	R	R	A	L	U
A	L	T	I	P	L	À	P	A	O	F	I	N
F	A	M	X	U	U	Y	L	Q	K	L	O	T
D	E	S	E	M	B	O	C	A	D	U	R	A
A	B	S	M	O	Q	N	A	A	J	E	Y	N
T	C	C	E	L	W	B	S	S	H	N	M	Y
P	L	A	N	A	E	V	C	D	U	T	B	A
I	F	B	T	P	R	X	A	F	Y	E	D	N
T	U	R	Ó	P	T	Z	D	G	T	A	H	U
O	A	C	L	L	M	E	A	N	D	R	E	E
H	R	I	U	Z	A	V	E	S	S	A	N	T
M	T	M	B	X	P	O	L	J	E	E	A	L

15- Escriu els noms que has trobat:

.....

.....

.....

.....