















ENIGMA 3 CICLE SUPERIOR

Quin és el preu en cèntims d'euro de la segona filera de fruites?

| | | | | |
|--|---|--|--|-------------|
|  |  |  |  | :90 |
|  |  |  |  | :? |
|  |  |  |  | :120 |

100 **80**