















## ENIGMA 3 CICLE SUPERIOR

Quin és el preu en cèntims d'euro de la segona filera de fruites?

				<b>:90</b>
				<b>:?</b>
				<b>:120</b>

**100**                      **80**

## SOLUCIÓ:

La resposta correcta és 140 cèntims d'euro.