

PROPOSTA 1:

ENCERCLA LES COMBINACIONS NUMÈRIQUES QUE EL SEU RESULTAT SIGUI **10**

$$2+2+2+2+2$$

$$5+5+1$$

$$2+8$$

vuit més tres

$$12-2$$

$$4+4+4$$

$$20-10$$

$$14-4$$

sis més quatre


$$3+3+3+1$$

$$15-5$$

nou + u

PROPOSTA 2:

UNEIX ELS PUNTS SEGUINT L'ORDRE NUMÈRIC AMB LÍNIES RECTES.



PROPOSTA 3:

SEGUEIX LES SÈRIES NUMÈRIQUES SEGÜENTS.

Nivell mig


3 $+4$ $+3$ $+1$ $+5$

2 $+5$ $+7$ $+6$

4 $+3$ $+6$ $+1$ $+5$ $+3$

2 $+5$ $+4$ $+1$ $+2$ $+3$

Nivell avançat


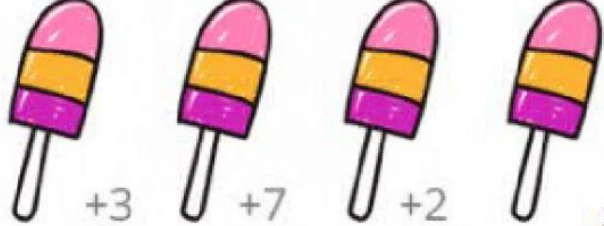


7 $+2$ $+3$ $+2$ $+5$

Four empty circles for calculation.

15 $+3$ $+2$ $+4$ $+5$ $+3$

Five empty circles for calculation.



27 $+3$ $+7$ $+2$

Three empty circles for calculation.

36 $+3$ $+4$ $+4$ $+2$ $+2$

Five empty circles for calculation.